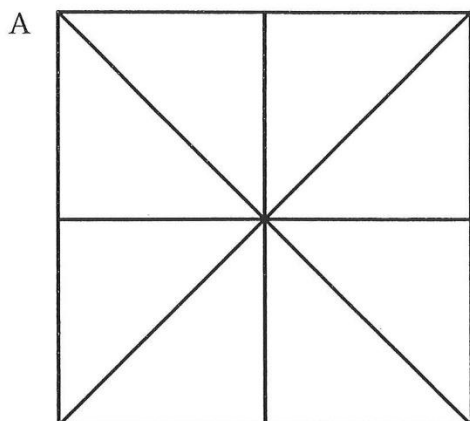
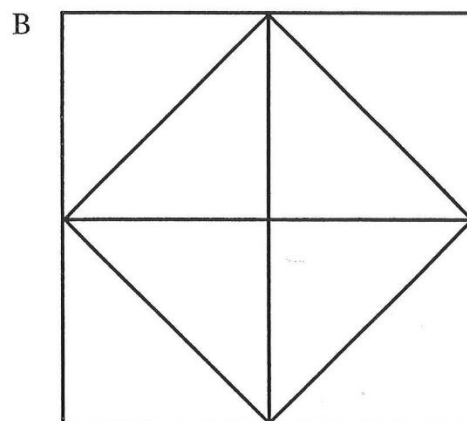


Quadrate und Dreiecke

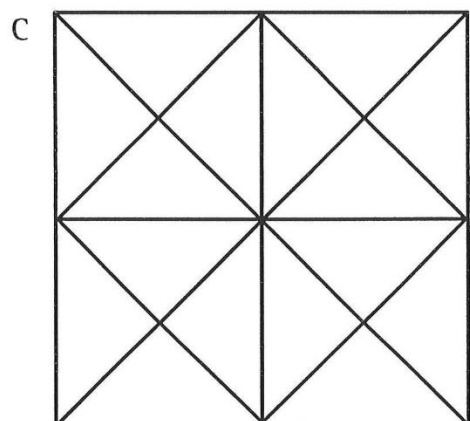
Zählen Sie alle Quadrate und Dreiecke in diesen Figuren



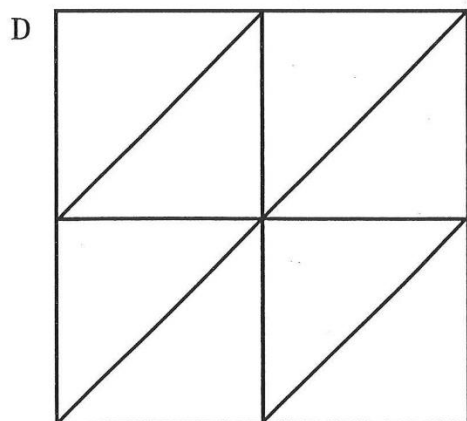
Es sind ____ Dreiecke und ____ Quadrate.



Es sind ____ Dreiecke und ____ Quadrate.



Es sind ____ Dreiecke und ____ Quadrate.



Es sind ____ Dreiecke und ____ Quadrate.

Lösung:

- A: Es sind 16 Dreiecke und 5 Quadrate.
- B: Es sind 12 Dreiecke und 6 Quadrate.
- C: Es sind 44 Dreiecke und 10 Quadrate.
- D: Es sind 10 Dreiecke und 5 Quadrate.