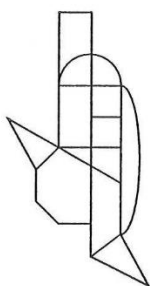


Figuren vergleichen

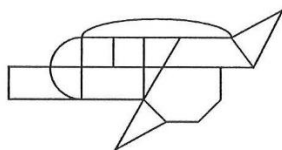
Die folgende Figur ist in verschiedene Richtungen gedreht. Scheinbar ist es immer die gleiche Figur. Bei genauem Hinsehen ist jedoch zu erkennen, daß bei einer Figur etwas leicht verändert ist. Welche ist das?

Aufgabe A

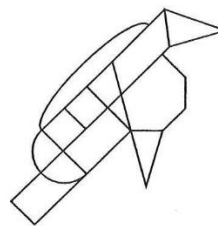
1



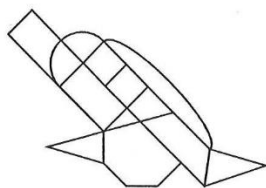
2



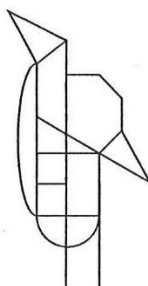
3



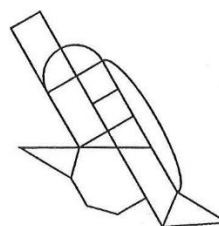
4



5




6



Aufgabe B

1




2



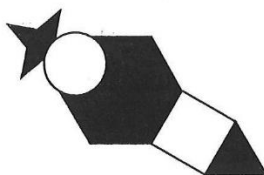
3




4



5



6



Lösung:

Aufgabe A: Figur 3

Aufgabe B: Figur 5